

to i owo

GAZETKA ZESPOŁU SZKÓŁ IM. KS. ANTONIEGO PEPLIŃSKIEGO
W STUDZIENICACH

NR 3

15.01.2014

*Z okazji Nowego Roku wszystkim naszym Czytelnikom
składamy serdeczne życzenia pomyślności i jak najwięcej
niezapomnianych chwil w 2014 roku .*

Redakcja

Wycieczka do Teatru Muzycznego

06.12. br . gimnazjaliści z naszej szkoły wybrali się do Teatru Muzycznego w Gdyni na musical pt. „ SHREK”. „ Shrek” to spektakl wyjątkowy, zrobiony z dużym rozmachem, z dbałością o najdrobniejsze szczegóły i niesamowite efekty specjalne. Do tego dorzucimy świetną muzykę , dużą dawkę humoru i już. Zadowolenie widza zapewnione. Nasze koleżanki i koledzy zgodnie przyznali, że warto było udać się na spektakl, mimo dłuuuuuuuuuuuugiej drogi powrotnej z przygodami.

DZIĘKUJEMY PANI ANI !

W piątek, 17.01 br. po raz ostatni zajęcia w naszej szkole będzie miała pani pedagog, Anna Krefft. Po feriach wróci do nas p. Monika. W imieniu wszystkich uczniów gorąco dziękujemy pani Ani za wspólne zajęcia i wyrozumiałość.

NIE PAL !

10.01. br. Klasy I i II gim. wzięły udział w dwugodzinnych warsztatach z p. Kamilą Rumińską z bytowskiego sanepidu. Tematem przewodnim zajęć była szkodliwość palenia tytoniu. Efekty prac gimnazjalistów, przyznajemy , że bardzo ciekawe, możecie oglądać na planszach zawieszonych na pierwszym piętrze.

Kochana Babciu, Kochany Dziadku!

Z okazji zbliżającego się Dnia Babci i Dnia Dziadka wszystkim babciom i dziadkom życzymy zdrowia, uśmiechu na twarzy oraz pociechy z wnucząt.

Redakcja

Zaczynamy ferie

Drodzy uczniowie! Zbliżają się długo oczekiwane ferie zimowe. Podczas ferii zachowujcie ostrożność, ubierajcie się ciepło, żeby nie zachorować. Życzymy Wam, abyście wrócili do szkoły cali i zdrowi, a przede wszystkim wypoczęci i gotowi na nowe wyzwania w drugim semestrze.

Relacje gimnazjalistów po napisaniu próbnych testów

Od 10 do 12 grudnia br. nasi trzeciogimnazjaliści pisali testy próbne. Zapytaliśmy ich, jak czuli się po wyjściu z małej sali.

„Tragicznie” – Kasia Tarasiewicz

„Poczułam ulgę, że mam je już za sobą” – Adrianna Balsam

„Czuję wielką satysfakcję po napisaniu testów z biologii” – Anna Plata

„No, nie jest źle” – Adrian Muszyński

„Myślałam, że pójdzie mi gorzej, aczkolwiek nie jestem do końca zadowolona ze swoich wyników”

– Karolina Las

KONKURSY PRZEDMIOTOWE

Na przełomie listopada, grudnia odbyły się konkursy przedmiotowe. Był to dopiero etap szkolny. Niestety ze szkoły podstawowej nikt nie przeszedł do następnej fazy. Z gimnazjum do następnej części z chemii zakwalifikowała się Anna Plata, a z geografii Maja Czarnecka. Trzeciogimnazjalistkom życzymy powodzenia w konkursach na etapie powiatowym.

TEGOROCZNE ANDRZEJKI

W tym roku szkolnym, z powodu wymiany pieca, nie było andrzejkowej komnaty wróżb. Na otarcie łez p. Lidia Dułak upiekła pyszne ciasteczka, w których ukryte były wróżby. Chyba każdemu uczniowi spodobała się ta pyszna niespodzianka. Dziękujemy za nią w imieniu wszystkich uczniów i nauczycieli.

POMYSŁY NA WALENTYNKI

Uwaga uczniowie! Do walentynek zostało 22 dni, więc jest wystarczająco dużo czasu, aby pomyśleć o życzeniach dla ulubionych osób. Aby niespodzianka była udana, podamy kilka sposobów na oryginalne upominki.

1. Zamiast tradycyjnej kartki można także wykonać z bibuły kwiatka w dowolnym kolorze, do którego przyczepiony będzie bilecik z życzeniami. Spodoba się on każdemu.

2. Nagraj płytę ze swoimi ulubionymi piosenkami i wręcz ją przyjaciółce/przyjacielowi.

3. Jeżeli posiadasz talent muzyczny nie wstydź się tego, możesz ułożyć piosenkę, którą zaprezentujesz wyjątkowej osobie.

4. Walentynki nie muszą być tylko na kartce, proponujemy zakup baloników w kształcie serc, na których możemy napisać miłe słowa dla drugiej osoby.

NAJCIEKAWSZE CHOINKI

Przed świętami Bożego Narodzenia w wielu salach lekcyjnych pojawiły się choinki. Redakcja naszej gazetki postanowiła wytypować dwie. Według nas najładniejszą choinką jest drzewko należące do klasy IV b SP, natomiast najbardziej oryginalna okazała się choinka klasy III gimnazjum.



Klasa IV b SP



Klasa III gim

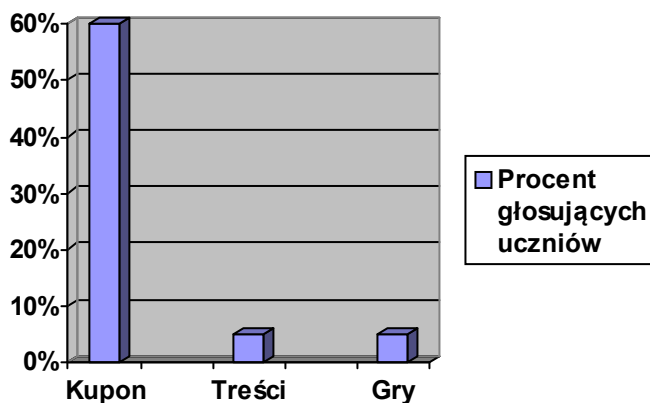
Przez naukę do... żołądka

Pani Beata Czapiewska obiecała wszystkim swoim wychowankom z kl. VI dużą pizzę za uzyskanie minimum 30 pkt. z testu próbnego.

Jak widać na załączonym zdjęciu, wynik ten uzyskała tylko Alicja Czarnecka.



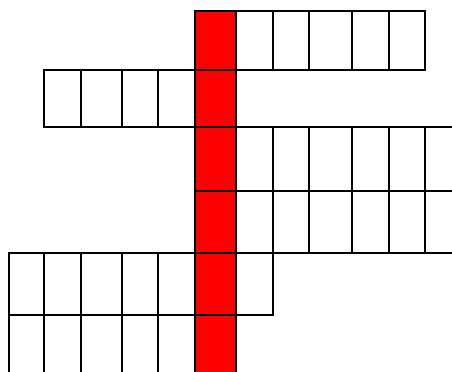
ANKIETA



Redakcja gazetki szkolnej przeprowadziła ankietę wśród uczniów na temat treści znajdujących się w kolejnym numerze. Spośród trzech kategorii największym powodzeniem cieszył się pomysł zwiększenia liczby kuponów w gazetce.

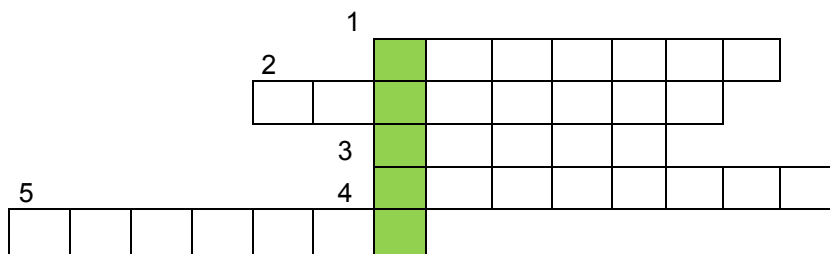
KRZYŻÓWKA DLA KLAS 1-3 SP

1. Jest zrobiony ze śniegu.
2. Położone pod obrusem.
3. Przynosi prezenty.
4. Pijemy go w noc wigilijną i jest czerwony.
5. Jest zielona i ma igły.
6. Wiszą na choince.



Krzyżówka dla klas 4-6 SP i 1-3 GIM

1. Ciągnie sanie Mikołaja.
2. Kacper, Melchior i Baltazar to trzej ...
3. Przeciwnieństwo Mikołaja.
4. Substancja, w której znajduje się wigilijny Karp.
5. Miejsce zamieszkania Mikołaja .



Nagrodę otrzymają dwie pierwsze osoby, z każdej kategorii wiekowej, które zgłoszą się do Anny Plata z poprawnie rozwiązaną krzyżówką.

UWAGA

Dodatkiem do dzisiejszej gazetki są kolejne zadania z cyklu „Rozkosze łamania głowy”. Jak zwykle rozwiązanie należy dostarczyć pani A. Szlagowskiej lub panu Ł. Gostkowskiemu.

KUPON

Zapomniałeś pracy domowej? Nie przygotowałeś się do zajęć? Nie martw się! Mając ten kupon nie otrzymasz oceny niedostatecznej!

.....
przedmiot

.....
data

WAŻNY DO: 28.02.2014

KUPON

Zapomniałeś pracy domowej? Nie przygotowałeś się do zajęć? Nie martw się! Mając ten kupon nie otrzymasz oceny niedostatecznej!

.....
przedmiot

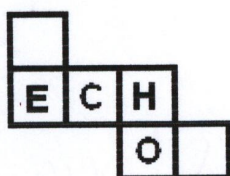
.....
data

WAŻNY DO: 28.02.2014

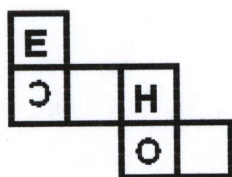
1. Sznur koralik składa się z osiemdziesięciu kulistych koralików. Pięćdziesiąt z nich ma promień 6 mm, a pozostałe są trzy razy mniejsze. Jaka może być najmniejsza długość tego sznura koralik?



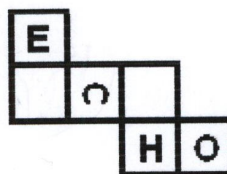
2. Która z poniższych siatek sześciangu przedstawia właściwy zapis, tak by po złożeniu tej siatki w sześcian i ustawieniu go na jednej ze ścian „pomalowanych”, litery na kolejnych ścianach bocznych utworzyły poprawnie napisany wyraz: ECHO.



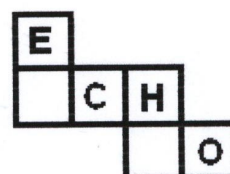
A



B



C



D

3. Na polach szachownicy kładziono pieniądze zgodnie z pewną regułą. Oblicz, jaka kwota będzie na szachownicy, jeśli pieniądze zostaną położone na wszystkich polach?

| | | |
|------|------|-------|
| 96zł | | 384zł |
| | 24zł | 48zł |
| 1zł | 3zł | 6zł |

1. Uzasadnij, że liczba

$$8^5 + 4^8 + 6 \cdot 16^4$$

Jest podzielna przez 5 nie obliczając jej.

2. Cenę pewnego towaru obniżono o 25%. O ile procent należy podnieść obecną cenę tego towaru, aby otrzymać cenę początkową?

3. Średnia arytmetyczna cen sześciu akcji na giełdzie jest równa 500 zł. Za pięć z tych akcji zapłacono 2300 zł. Ile jest równa cena szóstej akcji?